

ČSCH, z.s. - 51. Olympiáda mladých chovatelů
Přerov 7. - 11. 8. 2019 (sekce Králíci)

Jméno a příjmení soutěžícího:

1 otázka = 1 bod. Jedna správná možnost. Vypisovací otázky - stručně a jasně.

Výživa

1.) Mláďata králíků do odstavu mají sníženou schopnost trávit:

- a) škrob
- b) tuk
- c) minerální látky

2.) Pro správný pohyb střev je důležitá především:

- a) nestrávitelná část vlákniny
- b) stravitelná část vlákniny
- c) frakce škrobu

Veterinární prevence

3.) Uvedte 2 základní choroby, proti kterým se králíci u nás vakcinují:

.....
.....

4.) Jaký je typický klinický příznak králičí syfilis? Jak bude takový králík hodnocen na výstavě?

- a) Zduření zevních pohlavních orgánů s tvorbou krust. Výrok "Výluka", klasifikace "Nd"
- b) Zduření uší, očních víček, dýchací problémy. Výrok "Neklasifikován", klasifikace "Nd"
- c) Zduření zevních pohlavních orgánů s tvorbou krust. Výrok "Neklasifikován", klasifikace "0"

Základy genetiky

5.) Jak bude vypadat zakrslý králík s genotypem DwDw?

- a) Nedostatečně životaschopný, malý jedinec
- b) Typově standardní zakrslý králík - optimální jedinec
- c) Typově přerostlý zakrslý králík

Výstavnictví

6.) Kde konala v roce 2018 CVMK a CV? Kde se bude letos konat CVMK a CV?

CVMK 2018 CV 2018
CVMK 2019 CV 2019

7.) Kdyby byla dnes pořádána výstava, jak bude klasifikován králík Mbh vržený v únoru 2019?

- a) jako mládě
- b) jako dospělý králík
- c) nebude klasifikován (nízký věk pro účast na výstavě)

Registrace

8.) Jaký existují typy registrace králíků v ČSCH (3)?

.....
.....
.....

9.) Vysvětlete význam tetování:

Levé ucho: C 1-9 / pravé ucho: S-1111
Levé ucho: C 2-4 / pravé ucho: P-4
Levé ucho 40-S / pravé ucho: C 2-5
Levé ucho C 3-8 / pravé ucho 15-K

ČSCH, z.s. - 51. Olympiáda mladých chovatelů
Přerov 7. - 11. 8. 2019 (sekce Králíci)

Struktura ČSCH

10.) Základní předpis upravující strukturu a metodické vedení sekce chovatelů králíků ČSCH je:

- a) Organizační řád sekce chovatelů králíků
- b) Statut sboru posuzovatelů králíků
- c) Organizační a posuzovatelský řád králíků

11.) Člen chovatelského klubu v rámci sekce chovatelů králíků ČSCH:

- a) musí být členem ČSCH, tedy v základní organizaci
- b) nemusí být členem ČSCH, tedy nemusí být členem v základní organizaci
- c) musí být členem ČSCH, tedy v základní organizaci - ale pouze po dobu prvního roku, pak ne

Plemena králíků - obecně

12.) Vyjmenujte všechna v ČR uznaná beranovitá plemena králíků.

.....
.....

13.) Jaký je rozdíl v krycí barvě mezi novozélandským červeným a burgundským králíkem?

.....
.....

14.) Vyjmenujte plemena našeho původu (nejméně 6).

.....
.....
.....

15.) Kolik pozic má platná bodovací stupnice oceňovacího lístku králíka?

- a) 5
- b) 6
- c) 7

16.) Na výstavě ČSCH bude vystaven rex ve zbarvení tzv. otter (vydří). Jak jej budete hodnotit?

- a) Budete jej normálně klasifikovat.
- b) Nebudete jej klasifikovat.
- c) Vyžádáte si evropský vzorník a budete jej podle něj klasifikovat (povinnost pořadatele zajistit).

17.) Charakterizujte kolekci S 2+2:

.....
.....
.....

Základy standardů plemen králíků

18.) Jaký je rozdíl mezi srstí plemene angora a liščí?


.....
.....

19.) Jakou barvu mezibarvy mají mít následující barevné rázy?


čínčilový: divoče zbarvený:
železitý: durynský:

20.) Vyhodnoťte přiložené oceňovací lístky.

21.) Nakreslete a popište kresbu ČS.




22.) Nakreslete a popište kresbu MS.

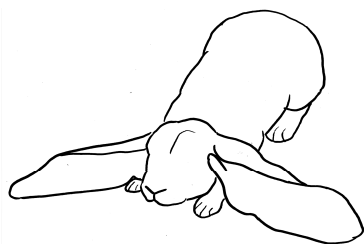


23.) Která kresba z hlediska typu náleží plemeni Nb?

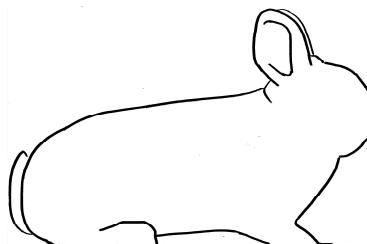
a)



b)



c)



24.) Jak budete hodnotit následující situace (ideál, srážka bodů, vyluka, neklasifikován)?

Velmi tmavý závoj (Ččp):

Hmotnost 3,50 kg (Čm):

Bílá skupina ve skvrně boční kresby (ČS):

Siamský kříž (Sivm):

25.) Vyjmenujte barevné rázy u S králíka:

.....

.....

ČSCH, z.s. - 51. Olympiáda mladých chovatelů
Přerov 7. - 11. 8. 2019 (sekce Králíci)

26.) Napište zkratky následujících plemen a rázů s ohledem na platné názvosloví (2016).

Pozn. Pozor na velká/malá písmena

- a) Vídeňský bílý
- b) Míšeňský beran světlý
- c) Rex bílý modrooký
- d) Český luštič
- e) Moravský bílý hnědooký
- d) Francouzský beran strakáč havanovitý
- f) Zakrslý rex oranžový
- g) Zakrslý bílopesíkatý modrý

27.) Vyjmenujte u nás uznané barevné rázy T králíka:

.....
.....
.....
.....

28.) Které plemeno králíků má odlišnou barvu podsady na hřbetě a spodině těla?

- a) rys
- b) kojot
- c) vlk

29.) Jak se nazývají chrupavčité hrboly u kořenů uší beranovitých plemen?

- a) čelenky
- b) korunky
- c) oblázky

30.) Plemena kuní velký a siamský velký pocházejí z:

- a) SR
- b) ČR
- C) Maďarska

VYPLŇUJE ZKUŠEBNÍ KOMISE

Dosažený počet bodů:

Dne 8. 8. 2019 v Přerově

Za zkušební komisi:

Jméno a příjmení:

Podpis.